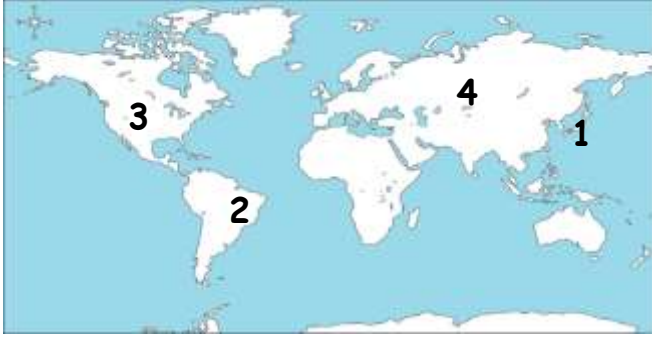


Adı :
Soyadı:

4. Sınıf
Sosyal Bilgiler

Uzaktaki Arkadaşlarım
Yaprak Test-3



1- Yukarıdaki dünya haritasında rakamlarla yerleri gösterilen ülkeler hangisinde doğru verilmiştir?

	1	2	3	4
A)	Çin	Brezilya	ABD	Rusya
B)	Çin	Arjantin	Kanada	Çin
C)	Rusya	Arjantin	Meksika	Hindistan
D)	Rusya	Brezilya	ABD	Çin

- 1- Dünyanın en büyük ülkesidir.
- 2- Dünyanın en kalabalık ülkesidir.
- 3- Ülkemizin komşusudur.
- 4- Türk Cumhuriyetlerinden biridir.

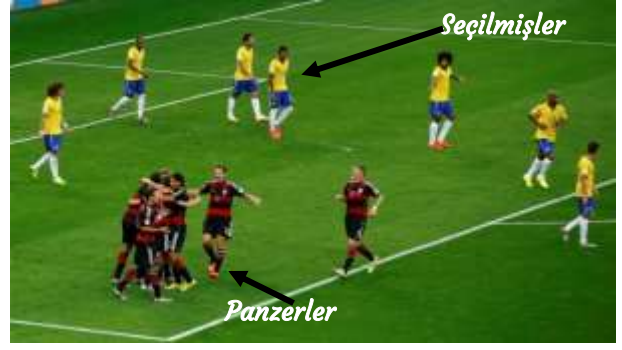
2- Yukarıda verilen bilgilerin cevaplarına uygun seçenek hangisinde verilmiştir?

- A) İran - ABD - Çin - Ermenistan
- B) Brezilya - Rusya - Hindistan - Bulgaristan
- C) Suriye - Kazakistan - Çin - Rusya
- D) Özbekistan - Rusya - Japonya - Çin



3- Yukarıda verilen mimari yapılar hangi ülkenin sınırları içinde yer almaktadır?

- | | | |
|--------------------|---------------------|-------------------|
| <u>Özgürlük H.</u> | <u>Mescidi Aksa</u> | <u>Kremlin S.</u> |
| A) Japonya | Suudi Arabistan | İtalya |
| B) ABD | Filistin | Rusya |
| C) Brezilya | Ürdün | Çin |
| D) İngiltere | İran | İspanya |



4- Yukarıdaki görsel 2014 yılında yapılan Dünya Kupası maçından. Panzerler takımı Seçilmişler takımını 7-1 yenerek finale yükselmiştir. Bu ülkelerin bayrakları hangisidir?

- | | | | |
|-----------|-------------|-----------|-------------|
| Panzerler | Seçilmişler | Panzerler | Seçilmişler |
| A) | | B) | |
| C) | | D) | |

5- Aşağıdaki ülkelerden hangisi diğerlerinden farklı bir kıtada yer alır?

- | | |
|-----------|--------------|
| A) Çin | B) Japonya |
| C) Fransa | D) Hindistan |



6- Yukarıdaki haritada Osmanlı Devleti'nin egemen olduğu ülkeler kırmızı renkle gösterilmiştir. Aşağıdaki ülkelerden hangisinde Osmanlı Devleti egemenlik kurmamıştır?

- | | |
|----------|----------------|
| A) Mısır | B) İspanya |
| C) Irak | D) Bulgaristan |

Adı :
Soyadı:

4. Sınıf
Sosyal Bilgiler

Uzaktaki Arkadaşlarım
Yaprak Test-3





7- Ülkemizin komşularının bulundukları yönler hangisinde yanlış verilmiştir?

- A) İran → Batı
B) Gürcistan → Kuzeydoğu
C) Suriye → Güney
D) Bulgaristan → Kuzeybatı

8- Aşağıdakilerden hangisi tüm Türk Cumhuriyetleri'nde kutlanan önemli günlerdir?

- A) Öğretmenler Günü - Zafer Bayramı
B) Ramazan Bayramı - Gençlik ve Spor Bayramı
C) Nevruz - Hıdrellez
D) Cumhuriyet Bayramı - Hasat Bayramı

9- Aşağıdaki ülke-yöresel kıyafet eşleştirmesi hangisinde yanlış yapılmıştır?

- A)  *Hindistan*
B)  *Türkiye*
C)  *Kore*
D)  *İskoçya*

Her ülkenin bayrakları üzerinde bulunan sembollerin ve renklerin ifade ettiği anlam farklı olabilir. Örneğin bizim bayrağımızdaki kırmızı "şehitlerin kanını" temsil eder. Polonya bayrağındaki kırmızı "dürüstlük" demektir.

10- Aşağıdaki bayraklardan hangisi Müslüman bir ülkeye ait değildir?

- A)  B) 
C)  D) 

11- Aşağıdaki özel günlerden hangisi Sadece ülkemizde ve KKTC'de resmi olarak kutlanır?

- A) Cumhuriyet Bayramı B) Hıdrellez
C) Nevruz Bayramı D) Öğretmenler Günü



12- Boğa güreşi, horoz dövüşü, deve güreşi, gibi bazı toplumların kültürlerinde doğal karşılanan ancak bizim toplumumuzda hoş görülmemeyen spor ya da eğlenceler vardır. Görseldeki etkinlik hangi ülkenin kültürüne aittir?

- A) Hindistan B) Macaristan
C) İngiltere D) İspanya



13- Hint kültüründe inek kutsaldır, kesilmez. Sütü sağıldıktan sonra ineğe teşekkür edilir. Kesenlere, zarar verenlere hapis ve para cezası verilir. Bunun nedeni aşağıdakilerden hangisi olabilir?

- A) Dünya'nın ineğin boynuzları üzerinde durduğuna inanmaları
B) İnek kesenlerin hırsız olacaklarına inanmaları
C) İneğin gücünden, sütünden ve öldükten sonra derisinden faydalanmaları ve neslinin tükenmesinin önlenmesi
D) Hindistan'da ineklerinin neslinin tükenmek üzere olması

Adı :
Soyadı:

4. Sınıf
Sosyal Bilgiler

Uzaktaki Arkadaşlarım
Yaprak Test-3

Doğru :

Yanlış:.....

- 1 A B C D
2 A B C D
3 A B C D
4 A B C D
5 A B C D

- 6 A B C D
7 A B C D
8 A B C D
9 A B C D
10 A B C D

- 11 A B C D
12 A B C D
13 A B C D
14 A B C D
15 A B C D

- 16 A B C D
17 A B C D
18 A B C D
19 A B C D
2 A B C D